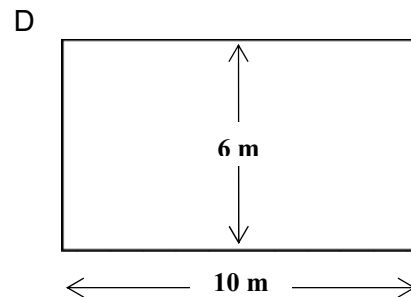
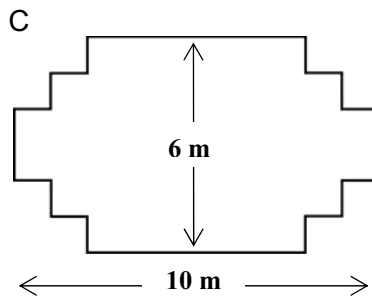
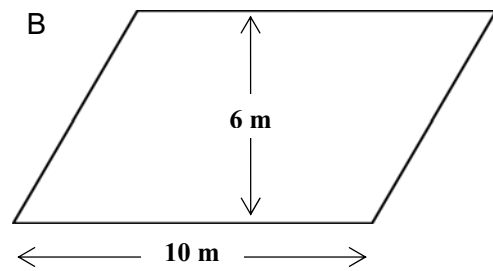
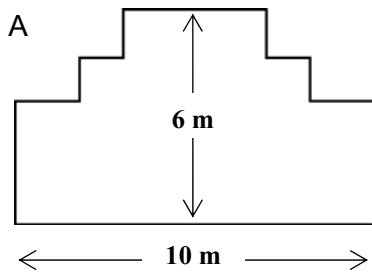


CARPENTIERE

Domanda 52: CARPENTIERE

M266Q01

Un carpentiere ha 32 metri di tavole di legno e vuole fare il recinto a un giardino. Per il recinto prende in considerazione i seguenti progetti.



Indica per ciascun progetto se è possibile realizzarlo con 32 metri di tavole.

Fai un cerchio intorno a «Sì» o «No».

| Progetto per il recinto | Utilizzando questo progetto, si può realizzare il recinto con 32 metri di tavole? |
|-------------------------|---|
| Progetto A | Sì / No |
| Progetto B | Sì / No |
| Progetto C | Sì / No |
| Progetto D | Sì / No |