

TRIANGOLI

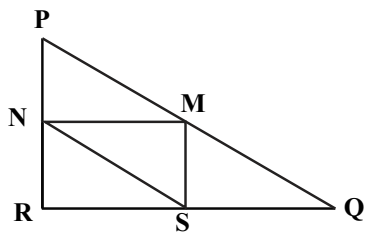
Domanda 46: TRIANGOLI

M161Q01

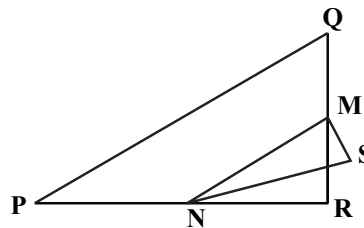
Tra le figure rappresentate qui sotto, cerchia l'unica che corrisponde alla descrizione seguente:

il triangolo PQR è un triangolo rettangolo con l'angolo retto in R. Il segmento RQ è minore del segmento PR. M è il punto medio del segmento PQ ed N è il punto medio del segmento QR. S è un punto all'interno del triangolo. Il segmento MN è maggiore del segmento MS.

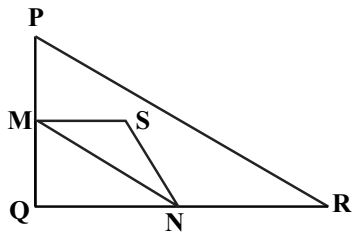
A



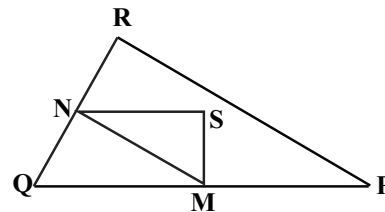
B



C



D



E

